


Die Kinder würfeln dreimal.


Zeichne die fehlenden Punkte und schreibe die Aufgabe.

Tim möchte immer 11 Punkte würfeln.


Wie viele Punkte muss sein letzter Wurf haben?



$$\underline{6} + \underline{3} + \underline{2} = 11$$



$$\underline{\quad} + \underline{\quad} + \underline{\quad} = 11$$



$$\underline{\quad} + \underline{\quad} + \underline{\quad} = 11$$



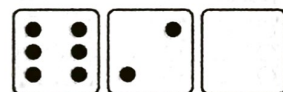
$$\underline{\quad} + \underline{\quad} + \underline{\quad} = 11$$

Lisa möchte immer 13 Punkte würfeln.

Wie viele Punkte muss ihr letzter Wurf haben?



$$\underline{\quad} + \underline{\quad} + \underline{\quad} = 13$$



$$\underline{\quad} + \underline{\quad} + \underline{\quad} = 13$$




$$\underline{\quad} + \underline{\quad} + \underline{\quad} = 13$$




$$\underline{\quad} + \underline{\quad} + \underline{\quad} = 13$$

Jonas möchte immer 12 Punkte würfeln.

Wie viele Punkte muss sein letzter Wurf haben?



$$\underline{\quad} + \underline{\quad} + \underline{\quad} = 12$$



$$\underline{\quad} + \underline{\quad} + \underline{\quad} = 12$$



$$\underline{\quad} + \underline{\quad} + \underline{\quad} = 12$$



$$\underline{\quad} + \underline{\quad} + \underline{\quad} = 12$$